

PRACOVNÍ LIST K TRASE Č. 1



Kietrz → Třebom → Sudice → Pietraszyn → Krzanowice → Chuchelná → Strahovice
→ Rohov → Ściborzyce Wielkie → Kietrz

Délka trasy: 39.1 km

VYPRACOVAL/A (Jméno a příjmení)

.....

KONTAKT (e-mail, telefonní číslo, adresa)

.....

ODPOVĚZ NA SOUTĚŽNÍ OTÁZKY

A VYFOTOGRAFUJ SE NA NIŽE UVEDENÝCH MÍSTECH!

Soutěžní otázky a místa na trase č. 1

- 1. Kietrz** **Klášterní kostel** **Souřadnice: N 50°5.04600', E 18°0.97440'**
Soutěžní otázka: Kdo je patronem kostela?
.....
- 2. Třebom** **Kostel** **Souřadnice: N 50°2.86412', E 18°1.60725'**
Soutěžní otázka: Komu je zasvěcen kostel v Třebomi?
.....
- 3. Sudice** **Kostel sv. Jana Křtitele** **Souřadnice: N 50°2.01678', E 18°4.05278'**
Soutěžní otázka: Jméno kterého významného kravařského architekta je spojeno s výstavbou kostela sv. Jana Křtitele v Sudicích?
.....
- 4. Pietraszyn** **Kaple sv. Barbory** **Souřadnice: N 50°2.00420', E 18°5.40665'**
Soutěžní otázka: Z jakého roku pochází kaple sv. Barbara a kdo financoval její stavbu?
.....
- 5. Krzanowice** **Mariánský sloup Panny Marie** **Souřadnice: N 50°1.06792', E 18°7.30440'**
Soutěžní otázka: Z jakého roku pochází a jakého stavebním stylu je Mariánský sloup Panny Marie?
.....
- 6. Chuchelná** **Mauzoleum v Chuchelné** **Souřadnice: N 49°59.21867', E 18°7.11847'**
Soutěžní otázka: Ve kterém roce bylo postaveno mauzoleum v Chuchelné?
.....
- 7. Strahovice** **Kostel sv. Augustina** **Souřadnice: N 50°0.15185', E 18°5.21560'**
Soutěžní otázka: Ve Strahovicích byl uspořádán úplně první Strassenfest na Hlučínsku. Ve kterém roce to bylo?
.....
- 8. Rohov** **Minipivovar** **Souřadnice: N 50°0.91948', E 18°4.37425'**
Soutěžní otázka: Rohov je známý mimo jiné díky místními pivovaru. Jaké pivo se zde vaří?
.....
- 9. Ściborzyce Wielkie** **Evangelický kostel** **Souřadnice: N 50°1.15680', E 18°1.90500'**
Soutěžní otázka: Ve kterém roce byl kostel vysvěcen?
.....

PRACOVNÍ LIST K TRASE Č. 2



**Krzanowice → Borucin → Bělá → Borová → Bolatice → Kobeřice
→ Strahovice → Krzanowice**

Délka trasy: 27,4 km

VYPRACOVAL/A (Jméno a příjmení)

.....

KONTAKT (e-mail, telefonní číslo, adresa)

.....

ODPOVĚZ NA SOUTĚŽNÍ OTÁZKY

A VYFOTOGRAFUJ SE NA NÍŽE UVEDENÝCH MÍSTECH!

Soutěžní otázky a místa na trase č. 2

1. Krzanowice **Kostel sv. Václava** **Souřadnice: N 50°1.05343', E 18°7.18900'**

Soutěžní otázka: Podle koho jsou varhany v kostele sv. Václava jedním z nejzajímavějších nástrojů ve Slezsku?

.....

2. Borucin **Vstupní brána „Stezky Lichnovských“** **Souřadnice: N 50°0.69908', E 18°9.65232'**

Soutěžní otázka: V jakém stavebním stylu je vystavěna vstupní brána a co je umístěno na jejím vrcholu?

.....

3. Bělá **Léčivý pramen** **Souřadnice: N 49°58.30887', E 18°9.10782'**

Soutěžní otázka: Jak se nazývá léčivý pramen v Bělé?

.....

4. Borová **Zvonička** **Souřadnice: N 49°57.51417', E 18°6.23623'**

Soutěžní otázka: Kolik zvonů se nachází ve zvoničce na náměstí na Borové?

.....

5. Bolatice **Skanzen** **Souřadnice: N 49°57.14570', E 18°5.04332'**

Soutěžní otázka: Ve kterém roce byl vybudován Skanzen lidových tradic a řemesel v Bolaticích?

.....

6. Kobeřice **Kostel Nanebevzetí Panny Marie** **Souřadnice: N 49°59.13755', E 18°3.09065'**

Soutěžní otázka: Jaké výšky dosahuje věž kostela Nanebevzetí Panny Marie v Kobeřicích?

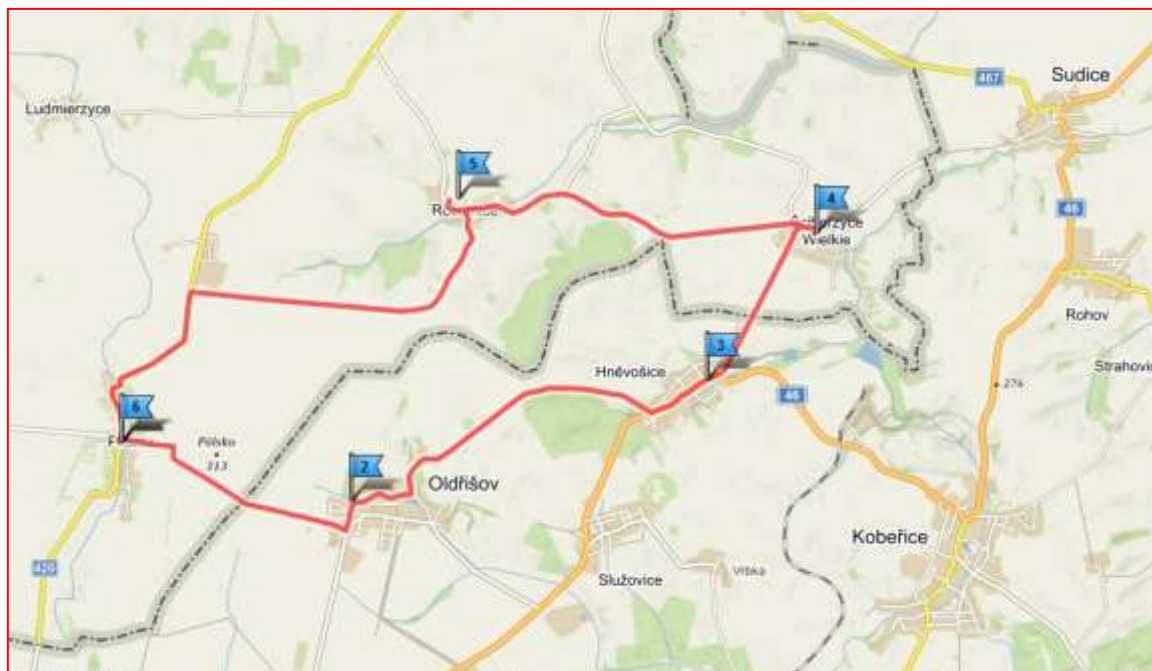
.....

7. Strahovice **Kostel sv. Augustina** **Souřadnice: N 50°0.15185', E 18°5.21560'**

Soutěžní otázka: Ve Strahovicích byl uspořádán úplně první Strassenfest na Hlučínsku. Ve kterém roce to bylo?

.....

PRACOVNÍ LIST K TRASE Č. 3



Pilszcz → Oldřišov → Hněvošice → Ściborzyce Wielkie → Rozumice → Pilszcz

Délka trasy: 21,8 km

VYPRACOVAL/A (Jméno a příjmení)

.....

KONTAKT (e-mail, telefonní číslo, adresa)

.....

ODPOVĚZ NA SOUTĚŽNÍ OTÁZKY

A VYFOTOGRAFUJ SE NA NÍŽE UVEDENÝCH MÍSTECH!

Soutěžní otázky a místa na trase č. 3

1. Pilszcz **Špýchar** **Souřadnice: N 50°0.01800', E 17°55.08540'**

Soutěžní otázka: Jaký materiál byl použit pro stavbu špýcharu?

.....

2. Oldřišov **Kostel** **Souřadnice: N 49°59.56592', E 17°57.93680'**

Soutěžní otázka: Komu je zasvěcen kostel v Oldřišově?

.....

3. Hněvošice **Hněvošický háj** **Souřadnice: N 50°0.08998', E 17°58.94308'**

Soutěžní otázka: V Hněvošickém háji se nachází také nejvyšší bod Hlučínska. Jak se vrch jmenuje a jaká je jeho výška?

.....

4. Ściborzyce Wielkie **Evangelický kostel** **Souřadnice: N 50°1.15680', E 18°1.90500'**

Soutěžní otázka: K jaké farnosti patří evangelický kostel?

.....

5. Rozumice **Ruina kostela** **Souřadnice: N 50°1.29787', E 17°58.35168'**

Soutěžní otázka: Ve kterých letech byl kostel vystavěn?

.....

PRACOVNÍ LIST K TRASE Č. 4



Kietrz → Nowa Cerekwia → Chróscielów → Lubotyń → Dzierżysław → Kietrz

Délka trasy: 23,7 km

VYPRACOVAL/A (Jméno a příjmení)

.....

KONTAKT (e-mail, telefonní číslo, adresa)

.....

ODPOVĚZ NA SOUTĚŽNÍ OTÁZKY

A VYFOTOGRAFUJ SE NA NÍŽE UVEDENÝCH MÍSTECH!

Soutěžní otázky a místa na trase č. 4

1. Kietrz **Socha sv. Floriana** **Souřadnice: N 50°4.75860', E 18°0.13200'**

Soutěžní otázka: Ze kterého roku pochází socha sv. Floriana?

.....

2. Nowa Cerekwia **Železniční most** **Souřadnice: N 50°5.49113', E 17°56.89500'**

Soutěžní otázka: Kolik kolejí má železniční most?

.....

3. Chróscielów **Kaple** **Souřadnice: N 50°4.06440', E 17°54.13902'**

Soutěžní otázka: Ve kterém roce byl poprvé použit název „Crostolew“?

.....

4. Lubotyń **Přírodní památka** **Souřadnice: N 50°2.98620', E 17°56.61120'**

Soutěžní otázka: Jaká je výška místní přírodní památky - lípy malolisté (lipa drobnolistna)?

.....

5. Dzierżysław **Kostel** **Souřadnice: N 50°2.82480', E 17°58.05600'**

Soutěžní otázka: Ve kterém roce proběhla poslední rekonstrukce kostela?

.....

PRACOVNÍ LIST K TRASE Č. 5



**Krzanowice → Borucin → Bojanów → Wojnowice → Samborowice
→ Pietraszyn → Krzanowice**

Délka trasy: 19,6 km

VYPRACOVAL/A (Jméno a příjmení)

.....

KONTAKT (e-mail, telefonní číslo, adresa)

.....

ODPOVĚZ NA SOUTĚŽNÍ OTÁZKY

A VYFOTOGRAFUJ SE NA NÍŽE UVEDENÝCH MÍSTECH!

Soutěžní otázky a místa na trase č. 5

1. Krzanowice **Kostel sv. Mikuláše** **Souřadnice: N 50°1.37177', E 18°8.06953'**

Soutěžní otázka: Jaká historická událost se stala důvodem pro vybudování kostela sv. Mikuláše v Krzanowicach?

.....

2. Borucin **Kostel sv. Augustina** **Souřadnice: N 50°0.36715', E 18°9.24658'**

Soutěžní otázka: Ve kterém roce se obec začala ucházet o stavbu kostela?

.....

3. Bojanów **Kostel Krista Krále** **Souřadnice: N 50°1.93107', E 18°9.94732'**

Soutěžní otázka: Kopie jakého obrazu se nachází na místní faře a jakou událost připomíná?

.....

4. Wojnowice **Palác Wojnowice** **Souřadnice: N 50°3.65437', E 18°9.16695'**

Soutěžní otázka: Kdo v roce 1875 převzal palác ve Wojnowicích?

.....

5. Pietraszyn **Kostel sv. Barbory** **Souřadnice: N 50°2.08808', E 18°5.55695'**

Soutěžní otázka: Ve kterém roce byl kostel zasvěcen sv. Barbaře?

.....

PRACOVNÍ LIST K TRASE Č. 6



Služovice → Vrbka → Svoboda → Malé Hoštice → Velké Hoštice → Kravaře
→ Štěpánkovice → Služovice

Délka trasy: 28,2 km

VYPRACOVAL/A (Jméno a příjmení)

.....

KONTAKT (e-mail, telefonní číslo, adresa)

.....

ODPOVĚZ NA SOUTĚŽNÍ OTÁZKY

A VYFOTOGRAFUJ SE NA NÍŽE UVEDENÝCH MÍSTECH!

Soutěžní otázky a místa na trase č. 6

1. Služovice **Kaple** **Souřadnice: N 49°59.32277', E 17°59.76703'**

Soutěžní otázka: Komu je zasvěcena kaple ve Služovicích?

.....

2. Chlebičov **Koupaliště** **Souřadnice: N 49°57.42823', E 17°58.28838'**

Soutěžní otázka: Z čeho bylo vybudováno koupaliště v Chlebičově?

.....

3. Malé Hoštice **Skanzen** **Souřadnice: N 49°56.27295', E 17°56.62112'**

Soutěžní otázka: Co je ve skanzenu v Malých Hošticích kromě tradiční expozice k vidění?

.....

4. Velké Hoštice **Kostel sv. Jana Křtitele** **Souřadnice: N 49°56.03635', E 17°58.39845'**

Soutěžní otázka: Čím je kostel sv. Jana Křtitele ve Velkých Hošticích na Hlučínsku jedinečný?

.....

5. Kravaře **Zámek Kravaře** **Souřadnice: N 49°55.74133', E 17°59.94792'**

Soutěžní otázka: Kterému alchymistovi je věnována jedna z expozic zámku?

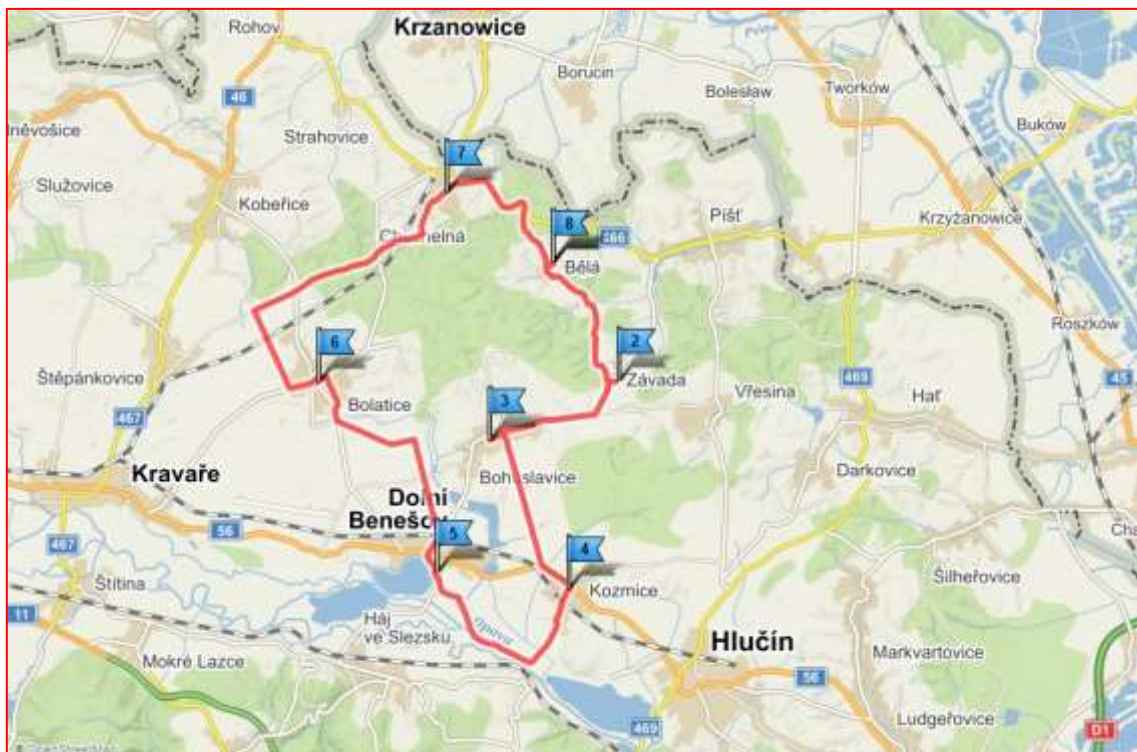
.....

7. Štěpánkovice **Kostel** **Souřadnice: N 49°57.55042', E 18°2.16298'**

Soutěžní otázka: Komu je zasvěcen kostel ve Štěpánkovicích?

.....

PRACOVNÍ LIST K TRASE Č. 7



Bělá → Závada → Bohuslavice → Kozmice → Dolní Benešov → Bolatice → Chuchelná → Bělá

Délka trasy: 33,7 km

VYPRACOVAL/A (Jméno a příjmení)

.....

KONTAKT (e-mail, telefonní číslo, adresa)

.....

ODPOVĚZ NA SOUTĚŽNÍ OTÁZKY

A VYFOTOGRAFUJ SE NA NÍŽE UVEDENÝCH MÍSTECH!

Soutěžní otázky a místa na trase č. 7

1. Bělá **Labyrint** **Souřadnice: N 49°58.29003', E 18°9.10472'**

Soutěžní otázka: Z kolika cihel je labyrint vytvořen?

.....

2. Závada **Kaple** **Souřadnice: N 49°57.24918', E 18°9.82312'**

Soutěžní otázka: Komu je zasvěcena kaple v Zavadě?

.....

3. Bohuslavice **Struhalův dub** **Souřadnice: N 49°57.23002', E 18°7.46338'**

Soutěžní otázka: Napište výšku a obvod kmene Struhalova dubu.

.....

4. Kozmice **Kozmické ptačí louky** **Souřadnice: N 49°54.19223', E 18°8.16342'**

Soutěžní otázka: Jmenujte alespoň 3 druhy ptáků, které lze na Kozmických ptačích loukách spatřit.

.....

5. Dolní Benešov **Zámek** **Souřadnice: N 49°55.01098', E 18°6.93485'**

Soutěžní otázka: Okolo kterého roku zámek v Dolním Benešově vznikl (na místě starší tvrze)?

.....

6. Bolatice **Kostel** **Souřadnice: N 49°57.14197', E 18°5.08967'**

Soutěžní otázka: Komu je zasvěcen kostel v Bolaticích?

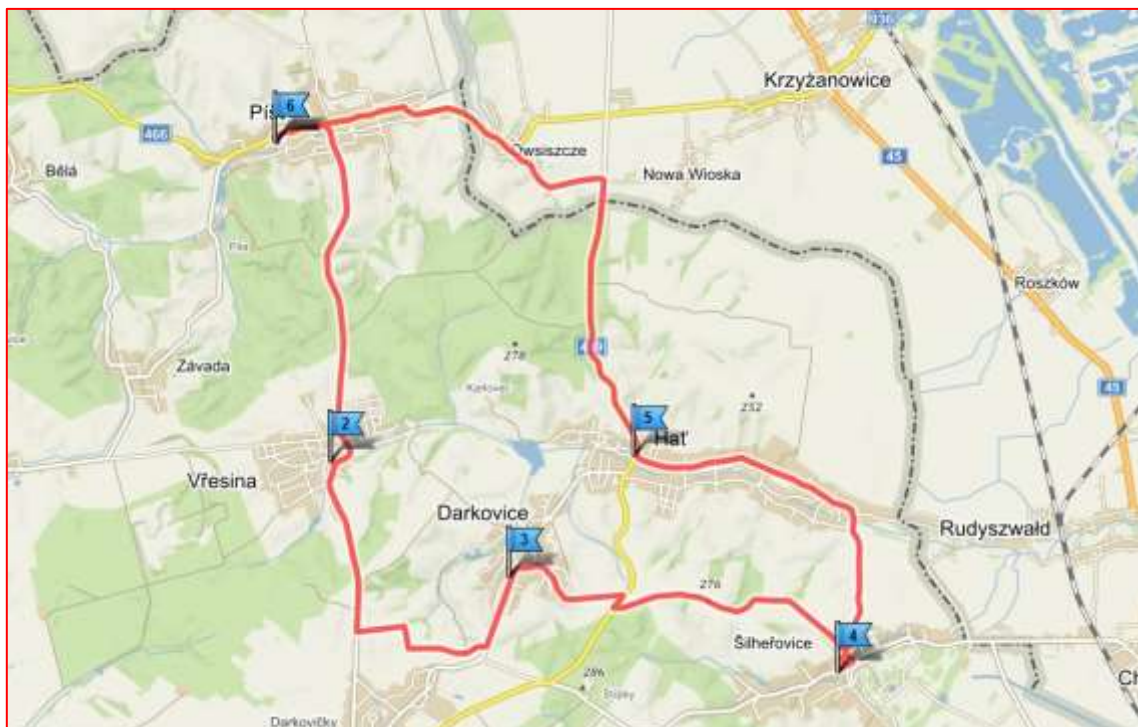
.....

7. Chuchelná **Muzeum Chuchelná** **Souřadnice: N 49°59.22033', E 18°7.07468'**

Soutěžní otázka: Jakému tématu je věnováno muzeum v Chuchelné?

.....

PRACOVNÍ LIST K TRASE Č. 8



Píšť → Vřesina → Darkovice → Šilheřovice → Hať → Píšť

Délka trasy: 25,5 km

VYPRACOVAL/A (Jméno a příjmení)

.....

KONTAKT (e-mail, telefonní číslo, adresa)

.....

ODPOVĚZ NA SOUTĚŽNÍ OTÁZKY

A VYFOTOGRAFUJ SE NA NÍŽE UVEDENÝCH MÍSTECH!

Soutěžní otázky a místa na trase č. 8

1. Píšť **Kostel sv. Vavřince** **Souřadnice: N 49°58.70848', E 18°11.67993'**

Soutěžní otázka: Ve kterém roce vzniklo v Píšti poutní místo?

.....

2. Vřesina **Přírodní rezervace Dařanec** **Souřadnice: N 49°57.57813', E 18°11.94515'**

Soutěžní otázka: Torzo jakého stromu se nachází na souřadnicích v Přírodní rezervaci Dařanec?

.....

3. Darkovice **Koupaliště** **Souřadnice: N 49°56.23065', E 18°12.90238'**

Soutěžní otázka: Jaký druh koupaliště se nachází v Darkovicích?

.....

4. Šilheřovice **Zámek** **Souřadnice: N 49°55.57285', E 18°16.48698'**

Soutěžní otázka: Jaká je rozloha zámeckého parku v Šilheřovicích?

.....

5. Hať **Kostel sv. Matouše** **Souřadnice: N 49°56.88542', E 18°14.22428'**

Soutěžní otázka: Kdy se v Hati zpravidla konají Dožínky neboli poděkování za úrodu?

.....

PRACOVNÍ LIST K TRASE Č. 9



Hlučín → Markvartovice → Ludgeřovice → Ostrava - Petřkovice → Ostrava - Lhotka →
Ostrava - Hošťálkovic → Hlučín

Délka trasy: 24,1 km

VYPRACOVAL/A (Jméno a příjmení)

.....

KONTAKT (e-mail, telefonní číslo, adresa)

.....

ODPOVĚZ NA SOUTĚŽNÍ OTÁZKY

A VYFOTOGRAFUJ SE NA NÍŽE UVEDENÝCH MÍSTECH!

Soutěžní otázky a místa na trase č. 9

1. Hlučín **Zámek Hlučín** **Souřadnice: N 49°53.78492', E 18°11.13002'**

Soutěžní otázka: Jak se nazývá stálá expozice v Muzeu Hlučínska věnovaná Hlučínsku?

.....

2. Markvartovice **Rybník Latkáč** **Souřadnice: N 49°54.53047', E 18°13.76718'**

Soutěžní otázka: Ve kterém století je připomínán jeden z nejstarších rybníků v českých zemích v Markvartovicích?

.....

3. Ludgeřovice **Kostel sv. Mikuláše** **Souřadnice: N 49°53.46478', E 18°14.35768'**

Soutěžní otázka: Kdo je autorem vnitřní výzdoby kostela sv. Mikuláše v Ludgeřovicích?

.....

4. Ostrava - Petřkovice **Landek Park** **Souřadnice: N 49°52.10775', E 18°15.88475'**

Soutěžní otázka: Kolik expozic je pro návštěvníky Landek parku připraveno?

.....

5. Ostrava - Lhotka **Kaple sv. Urbana** **Souřadnice: N 49°51.41555', E 18°13.78573'**

Soutěžní otázka: Do jaké doby sahá podle ústní tradice historie lidové slavnosti „Honění krále ve Lhotce?“

.....

6. Ostrava - Hošťálkovice **Rozhledna** **Souřadnice: N 49°50.66657', E 18°12.67852'**

Soutěžní otázka: Kolik žebříků je součástí rozhledny v Ostravě - Hošťálkovicích?

.....

PRACOVNÍ LIST K TRASE Č. 10



Hlučín → Darkovičky → Kozmice → Dobroslavice → Děhylov → Hlučín

Délka trasy: 19,5 km

VYPRACOVAL/A (Jméno a příjmení)

.....

KONTAKT (e-mail, telefonní číslo, adresa)

.....

ODPOVĚZ NA SOUTĚŽNÍ OTÁZKY

A VYFOTOGRAFUJ SE NA NÍŽE UVEDENÝCH MÍSTECH!

Soutěžní otázky a místa na trase č. 10

1. Hlučín **Kostel sv. Jana Křtitele** **Souřadnice: N 49°53.75797', E 18°11.15480'**

Soutěžní otázka: Ze kterého roku pochází první písemná zmínka o nejstarším kostele na Hlučínsku?

.....

2. Darkovičky **Pěchotní srub Orel** **Souřadnice: N 49°55.65078', E 18°12.94497'**

Soutěžní otázka: Jmenujte alespoň 3 názvy dalších pěchotních srubů nacházejících se na Hlučínsku.

.....

3. Kozmice **Kostel** **Souřadnice: N 49°54.74062', E 18°9.28472'**

Soutěžní otázka: Komu je zasvěcen kostel v Kozmicích?

.....

4. Dobroslavice **Zřícenina mostu** **Souřadnice: N 49°52.64000', E 18°8.64838'**

Soutěžní otázka: Od kterého roku stál v Dobroslavicích zámek a kdy vyhořel?

.....

5. Děhylov **Rybník** **Souřadnice: N 49°53.00378', E 18°10.27000'**

Soutěžní otázka: Jak se nazývá rybník nacházející se na uvedených souřadnicích?

.....